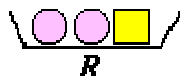
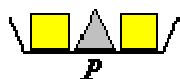


Nom i Cognoms:.....Curs i grup:.....

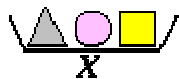
PROBLEMA 3.

QÜESTIÓ A.

Les safates P , Q , R estan en ordre creixent dels seus pesos totals.

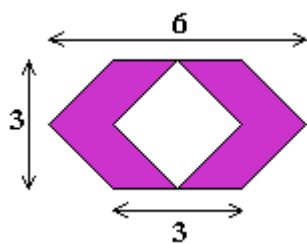


Si volem col·locar-hi la safata X de manera que es mantingui l'ordenació dels pesos de les safates, on hem de posar-la?



QÜESTIÓ B.

Quantes unitats d'àrea mesura la part acolorida?



Nota: Les solucions han d'anar acompanyades de l'explicació de la resolució.